

## Задание для поступления Промробоквантум.

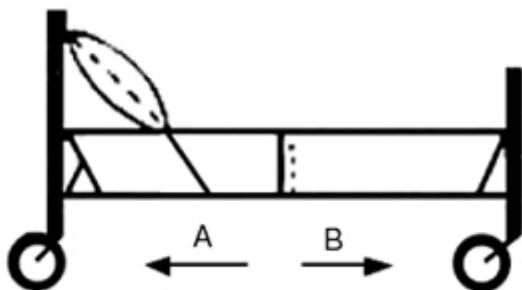
1. В каком направлении будет вращаться вертушка, приспособленная для полива, если в нее пустить воду под напором?

1. В обе стороны.      2. В направлении стрелки А.      3. В направлении стрелки В.



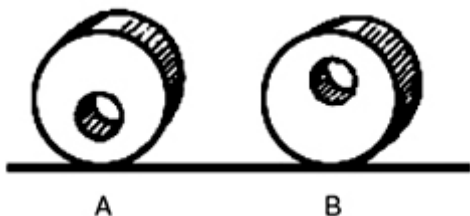
2. В каком направлении передвигали кровать в последний раз?

1. В направлении стрелки А.      2. В направлении стрелки В.      3. Не знаю.



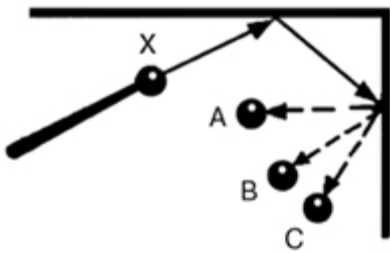
3. В каком положении остановится диск после свободного движения по указанной линии?

1. В каком угодно.      2. В положении А.      3. В положении В.



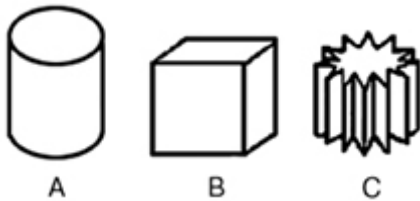
4. С каким шариком столкнется шарик X, если его ударить о преграду в направлении, указанном сплошной стрелкой?

1. С шариком А.      2. С шариком В.      3. С шариком С.



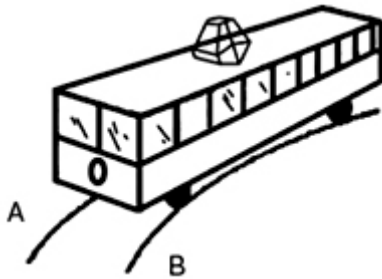
5. Какой из этих цельнометаллических предметов охладится быстрее, если их вынести горячими на воздух?

1. Предмет А.                      2. Предмет В.                      3. Предмет С.



6. Какой из двух рельсов должен быть выше на повороте?

1. Рельс А                      2. Рельс В.                      3. Оба рельса должны быть одинаковыми по высоте.



7. Какой из тракторов должен отъехать дальше для того, чтобы лодки остановились у берега?

1. Трактор А.                      2. Трактор В.                      3. Оба трактора должны отъехать на одинаковое расстояние.

